

AGYTORNA

Agytorna

1. feladatlap

1. Hány új szót tudsz alkotni a következő szó betűiből?

2 percig dolgozhatsz!

VITORLÁS

2. Furcsa kérdés

Válaszolj a következő furcsa kérdésre. Annyiféle választ íj, amennyi csak eszedbe jut, de egy válasz csak egy mondat legyen! 3 percig dolgozhatsz!

Mi lenne, ha az autók vízzel mennének?

Most te íj ilyen "furcsa" kérdést!

Agytorna

2. feladatlap

1. Szám úr

Nézd meg a rajzot! Milyen számokat ismersz fel? 1 percig dolgozhatsz!



2. Rejtvényelemi

Gondolkozz, majd írásban válaszolj!

a. Melyik hónapban van 28 nap?

b. Egy fiúnak valaki azt mondja: "Te fiam vagy, és én nem vagyok az apád."
Ki lehetett az?

c. Hány tojást tud megenni egy nagyon éhes óriás éhgyomorra?

3. Ez itt a te rejtvényed helye

Agytorna

3. feladatlap

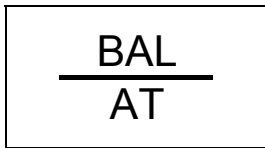
1. Furcsa kérdés

Több választ íj, de mindegyik csak egy mondat lehet! 2 percig dolgozhatsz!

Mi lenne, ha semmiért sem kellene fizetni?

Most Te íj furcsa kérdést!

2. Képrejtvény





3. Tudod? (Tréfás kérdések)

- Miben különbözik a **Balaton** és az **esőköpeny**?

- Miben különbözik a **zászló** és az **ábécé**?

Agytorna


4. feladatlap

1. Fantáziálás

Megkezdett mondatot olvashatsz az alábbiakban. Fejezd be röviden, akár egy szóval is! A mondathoz annyi befejezést írf a megadott idő alatt, amennyi eszedbe jut, akármilyen szokatlan, furcsa is az! 3 percig dolgozhatsz!

A fa lehulló levelei


2. Cégtábla kerestetik Válaszd ki melyik cégtábla illik az intézményhez, majd kösd össze őket! Indokold szóban a döntésedet!



ZENEISKOLA



ÉTTEREM



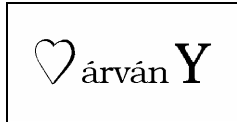
SPORTPÁLYA

Agytorna
5. feladatlap

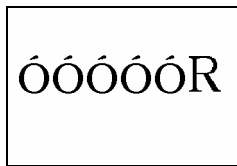
1. Képrejtvény



(Magányos)



(Természeti jelenség)



(Énekesmadár)

2. Mi lehet a vége?

Megkezdett mondatot olvashatsz az alábbiakban. Fejezd be röviden, akár egy szóval is! A mondathoz annyi befejezést íj a megadott idő alatt, amennyi eszedbe jut, akármilyen szokatlan, furcsa is az! 3 percig dolgozhatsz!

Csodaország palotái

3. Ok- okozat

Fejezd be a megkezdett mondatot!

a. Ha napsütés akkor kirándulás, ha tízórai akkor _____

b. Ha napsütés akkor jó idő, ha felhő akkor _____

Agytorna

6. feladatlap

1. Mire használhatod?

Írj a megadott szóhoz a megszokottól eltérő használati lehetőséget.
Mindegyikhez annyit amennyi eszedbe jut. 3 percig dolgozhatsz!

Pl.: ceruza: asztal lábának,
 el lehet tüzelni,
 nyílvessző helyett kilőni,
 fagyit enni, ha nincs kanál

pohár:- _____

léggömb: _____

2. Mi jut eszedbe?

A szavak mellé írd le, mi jut eszedbe róluk. Az a legjobb megoldás, ami először jut eszedbe.

Pl.: szappan - illat
 kő - szikla

vár _____

kancsó _____

létra - _____

szeretet _____

Agytorna

7. feladatlap

1. Mi lehet a vége?

A megkezdett mondatot fejezd be röviden, minél érdekesebben. Több megoldást is írhatasz. 3 percig dolgozhatsz!

Az idegen lépései

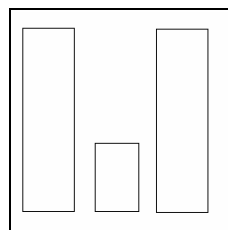
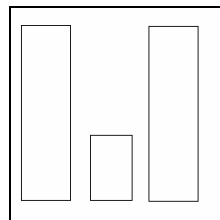
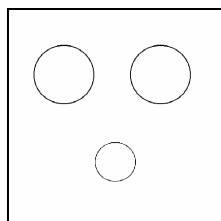
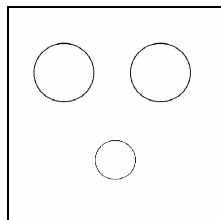
2. Gulliver játék

Sorolj fel olyan dolgokat, melyek hasonlítanak a megadott tárgyra, de nagyobbak.

Pl.: téglák lexikon (formája), teherautónyi salak (színe), virágcserep (anyaga)

óra: _____

3. Folytasd a rajzot, mi lehet az? Több megoldás is lehetséges!



Agytorna

8. feladatlap

1. Rejtvényelemi

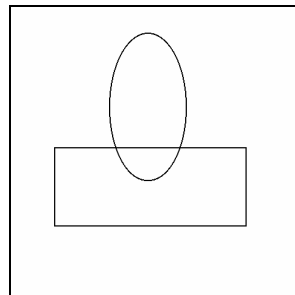
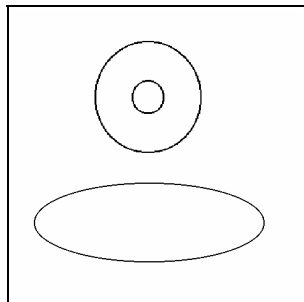
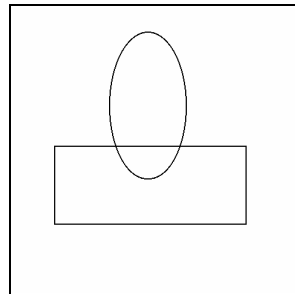
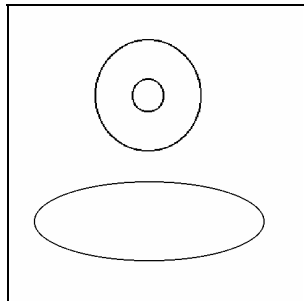
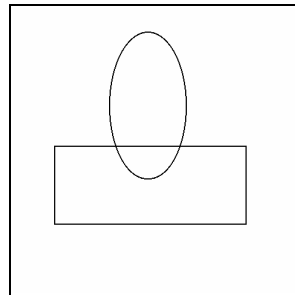
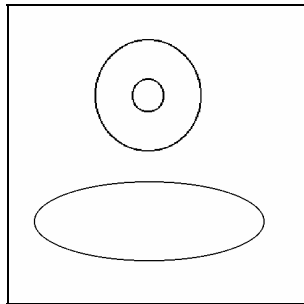
a. Mikor volt egy esztendőben csak három hét?

b. Mi a nehezebb, egy kiló vas vagy egy kiló toll?

c. Milyen kőből van a legtöbb a Dunában?

2. Rajzos feladvány- Folytasd a rajzot, mi lehet az?

3.



3. Ok- okozat

Fejezd be a megkezdett mondatot!

Ha ajtó akkor nyílik, ha ház akkor _____

Ha este akkor vacsora, ha dél akkor _____

Agytorna

9. feladatlap


1. Mi lehet a vége?

Röviden, akár egy szóval, fejezd be a mondatot! Több befejezést is írhatasz!

2 percig dolgozhatsz!

Az autóbusz lépcsőjén _____

2. Melyik két alak teljesen egyforma? 1 percig dolgozhatsz!

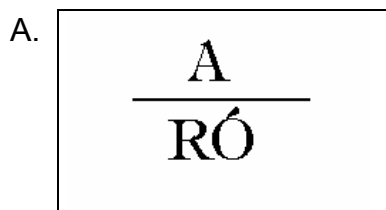


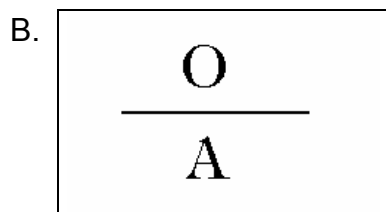
3. Betűrajz

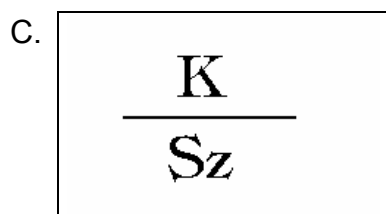
Milyen betűket ismersz fel?



1. Rejtvényiskola







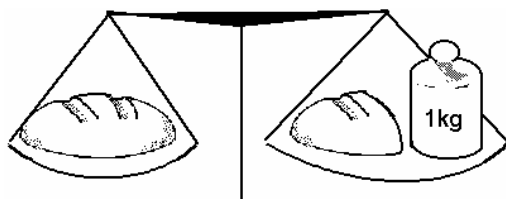
2. Rejtvényelemi

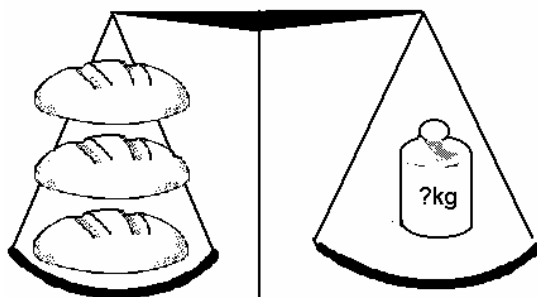
1. Lehet-e egy óra alatt Pestről Salgótarjánba menni gyalog?

2. Miért nem harapja le a pék a kifli végét?

3. Ha egy kenyér súlya 1kg és egy fél kenyér.

Milyen nehéz 1 kenyér? És 3 kenyérnek mennyi a súlya?






Agytorna

11. feladatlap

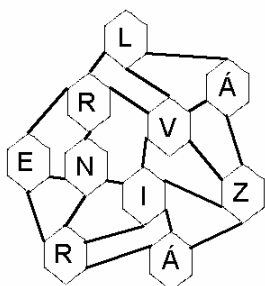
1. Szemfüles játék (30 mp)

Melyik tárgy szerepel leggyakrabban a rajzon?



2. Betűlabirintus

Ha helyes sorrendbe olvasod össze a betűket, egy népszerű gyermekíró nevét kapod. 2 percig dolgozhatsz!



3. Mire használhatod?

Írj a megadott szóhoz a megszokottól eltérő használati lehetőséget. Mindegyikhez annyit, amennyi eszedbe jut. 3 percig dolgozhatsz!

Tégla: _____

Óra: _____

Agytorna

12. feladatlap

1. Furcsa kérdés

Több választ írn, de mindegyik csak egy mondat lehet! 3 percig dolgozhatsz!

Mi lenne, ha a medve nem aludna téli álmot?

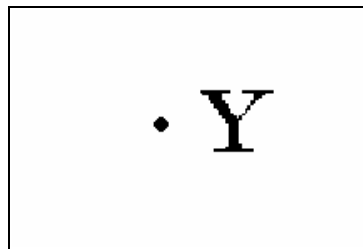

2. Mire használható?

Írj a megadott szóhoz a megszokottól eltérő használati lehetőséget. Mindegyikhez annyit, amennyi eszedbe jut. 3 percig dolgozhatsz!

Esernyő: _____

Szék: _____

3. Képrejtvény (Halfajták)



Agytorna
13. feladatlap

1. Lóugrásban (3 perc)


Indulj el a bal felső sarokból - lóugrással haladj, úgy, hogy egy ismert közmondást kapj!

T	A	É	G
G	É	F	T
S	I	E	S
S	É	Z	G
S	Á	Z	L

2. Rejtvényiskola

SZÉK $\frac{\text{pad}}{\text{a}}$ SZÉK

(Szólás)



Mulatság + NA

(Tengeri állat)

Agytorna

14. feladatlap

1. Mi jut eszedbe?

A szavak mellé írd le, mi jut eszedbe róluk! Az a legjobb megoldás ami először jut eszedbe.

asztal _____

könyv _____

vidám _____

hóember _____

kocsiút _____

úszógumi _____

fűzet _____

lassú _____

2. Rejtvényelemi

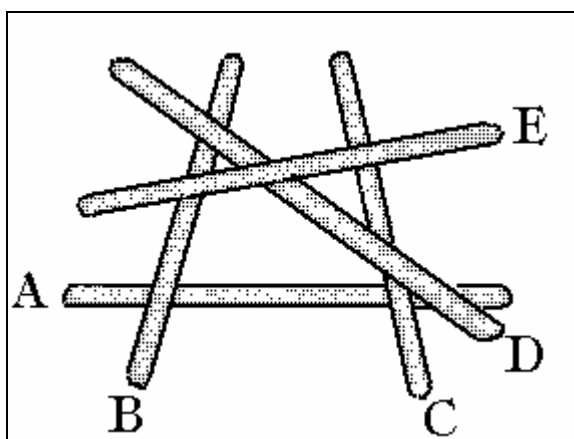
1. Melyik helyesebb; "öt meg hat" az tizenkettő, vagy "öt és hat" az tizenkettő?

2. Mikor lehet a vizet szitában vinni?

3. Melyik "prémből" nem lehet bundát csinálni?

3. Mindig a felsőt!

Ismered a marokkó játékot? Milyen sorrendben kellene felemelni a pálcikákat? Mindig csak a legfelsőt emelheted!



Agytorna

15. feladatlap

1. Mi jut eszedbe? Láncjáték

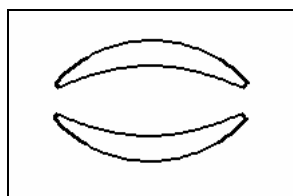
Nekem mindig eszembe jut egy dologról valami új. Elég hosszú láncokat tudok így alkotni.

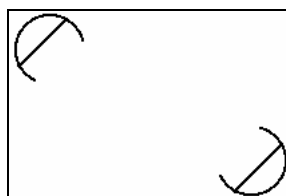
Pl.: autó - kormányzás - király - trón - kastély - katona - háború - béke - szeretet - család...

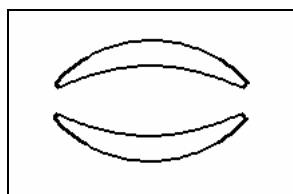
Tudod folytatni? Legyen minél hosszabb a láncod! (3 perc)

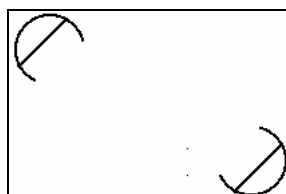
2. Rajzos feladvány

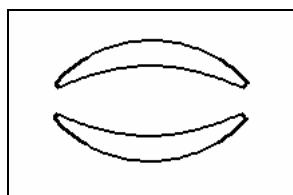
Folytasd a rajzot, mi lehet az?

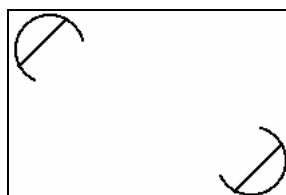












3. Mire használhatod? (1 perc)

Írj a megadott szóhoz a megszokottól eltérő használati lehetőséget!

lexikon _____

Agytorna

16. feladatlap

1. Egyforma - nem egyforma?



Jelöld a hibákat!

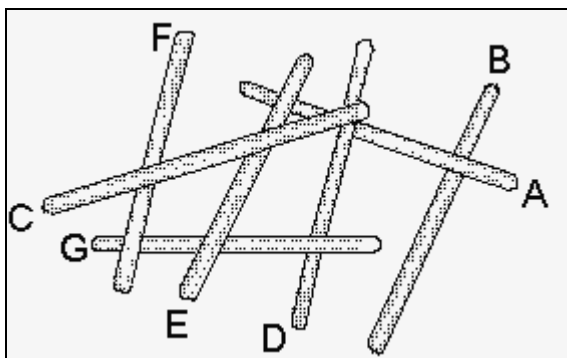
2. Mi jut eszedbe? Láncjáték

2 percig dolgozhatsz. Próbáld meg minél hosszabb láncot alkotni!

Kréta _____

3. Mindig a felsőt!

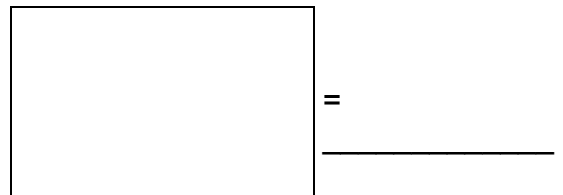
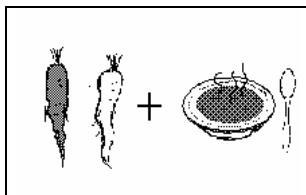
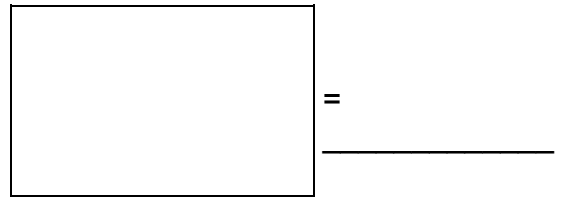

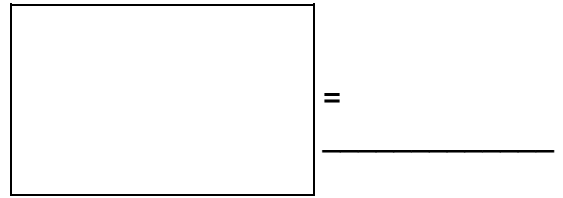
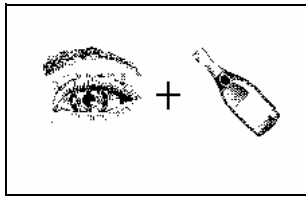
Milyen sorrendben kellene felemelni a pálcikákat?



Agytorna

17. feladatlap

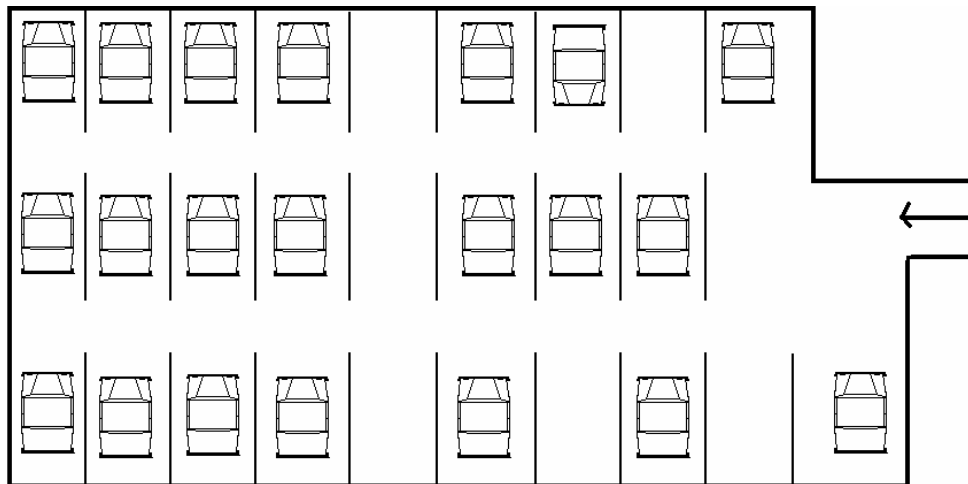
1. Képrejtvény.



Te is alkoss hasonlókat!

2. Nyomozz!

Elveszett az autóm. Segíts megtalálni a parkolóban! Ha megtalálod színezd ki!



- Azt tudom a. hogy a bejáratnál balra álltam meg
- b. mögöttem nem áll autó
- c. a sorban az utolsó kocsi és köztem két autó áll
- d. jobb oldalon senki sem parkol

Agytorna

18. feladatlap

1. Rejtvényelemi

A. 5 szénrakás meg 7 szénrakás összehordva hány szénrakás?

Le is rajzolhatod!




B. Libák mentek sorban a tóhoz. 1 liba ment 2 liba előtt, 1 liba ment 2 liba között, és 1 liba ment 2 liba után. Hány liba ment a tóhoz? Rajzolj, úgy könnyebb!



2. Nyomozz!

A szertárban rengeteg labda van. Segítség megkeresni a kedvencemet! Ha megtalálod, színezd ki!



Elárulom, hogy: - nem a legkisebb de nem is a legnagyobb méretű

- csík is található rajta
- nincs rajta csillag
- nem szélső sorban van
- pöttyeinek száma nem több mint öt
- tőle balra teniszlabdát láthatsz
- jobbra a negyedik szomszédján csak holdak vannak

Agytorna

19. feladatlap

1. Mi változott?

A két kép között 8 apró különbséget fedezhetsz fel. Keresd meg és jelöld!



2. ARTÁH - HÁTRA

Tudsz visszafelé olvasni? Próbáld meg! Milyen szavakat, mondatokat írtunk le!

soráv - _____ acsak - _____

znép - _____ arónoeIE - _____

. lét a tti nassal _____

.matzóknázs takos nebtenuzilé A _____

3. Mi jut eszedbe? Lánc játék.

(Juss el az első szótól az utolsóig úgy, hogy a kifejezések következzenek egymásból!) Segítségül bemutatunk egy ilyen láncot

Pl.: Asztal	ebédlő	kastély	vár	katona	csata	háború
az asztal az ebéd-lőben áll		a kastély része az ebédlő	mindkettőben urak élnek	védi a várat	katonák csatáznak	A csata a háború része

szem _____

_____ háború

Agytorna

20. feladatlap

1. Furcsa kérdés





Több választ írn, de mindegyik csak egy mondat lehet! 3 percig dolgozhatsz!

Mi lenne, ha nem lenne iskola?

2. Jel - betű

Az azonos jel mindig azonos betű helyén áll. Ha jól töltöd ki a táblázatot, könnyen kitalálhatod, hol nyaraltam az idén. (A kétjegyű mássalhangzót két rubrika jelöli!)



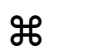


gondolkodó élőlény

				
---	---	--	---	---

a ház szeme

				
---	---	--	---	---

kutya kedvenc eledele

				
---	---	--	---	---


iszunk belőle

				
---	---	--	---	---

ékszer

				
---	---	--	---	---

sok pénzbe kerül

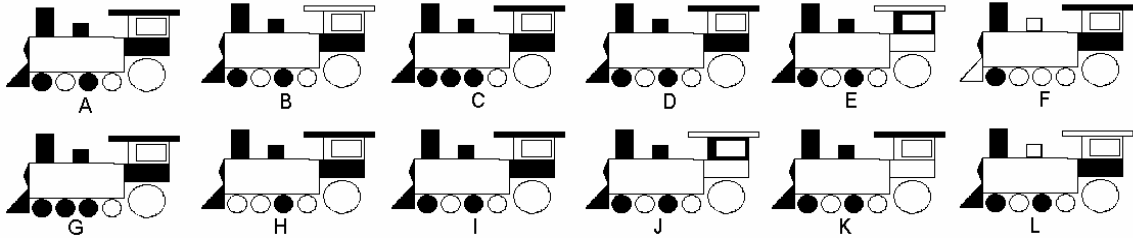
				
---	---	--	---	---

○ ● ✨ ○ ☺ ☒ ✨ ● +

Agytorna

21. feladatlap

1. Melyik két alak teljesen egyforma? (20 mp)



Egyformák: _____

2. Gulliver játék (2 perc)

Sorolj fel olyan dolgokat, melyek hasonlítanak a megadott tárgyra, de kisebbek.

Pl.: Tégla: gyufáskatulya (formája), piros rajzkréta (színe), őrölt pirospaprika (színe)

Tükör:

3. Ok keresés (3 perc)

Mi előzhette meg a következő jelenetet? Próbálj több okot is találni!

Pistike a szokásostól fél órával később ér haza az iskolából és sírva álldogál az ajtójuk előtt. Mi történhetett?

Agytorna

22. feladatlap

1. Névadás

Milyen állatok nevei lehetnek a következők?

Röviden indokold is a válaszodat!

S. Ajtony

Mac Fog

Sündörgő Erik

Rükverc

Vekker

Q Katz

Szuperpempő

Búzke

Hangyalka


2. Mi lehet a vége? (2 perc)

A megkezdett mondatot fejezd be röviden, akár egy szóval is. Annyi befejezést írf, amennyi eszedbe jut, bármilyen furcsa, szokatlan dolog is lehet.

A kiolvasott könyvet....

3. Betűrajz

Milyen betűket és számokat ismersz fel?




Agytorna

23. feladatlap

1. Szemfüles játék (30 mp)

Melyik tárgy szerepel leggyakrabban a rajzon?



2. Furcsa kérdés (2 perc)

Több választ írnak, de mindegyik csak egy mondat lehet! 3 percig dolgozhatsz!
Mi lenne, ha az órák egyszerre csak visszafelé kezdenének járni?

3. Próbálkozz! Döntsd el a sorrendet!

Csiga Matyi, Hangyácska, Teknőc Béla és Lajhár Lajcsi versenyeznek ki tesz meg hosszabb utat egy év alatt. Hangyácska messzebbre futott, mint Lajhár Lajcsi, Teknőc Béla ugyanannyit tett meg mint Csiga Matyi, Csiga Matyi megelőzte Hangyácskát. Rajzolhatsz is!

Sorrend: 1. _____
2. _____
3. _____
4. _____



Agytorna

24. feladatlap

1. Mire használhatod? (2 perc)

Írj a megadott szóhoz a megszokottól eltérő használati lehetőséget!

paplan _____

2. Hasonlók

Fejezd be a megkezdett mondatot!


A hó olyan, mint a cukor, mert _____


A kiscica olyan, mint egy gyerek, mert _____


A könyv olyan, mint egy öregember, mert _____


3. Rajzos feladvány


Folytasd a rajzot, mi lehet az?














Agytorna

25. feladatlap

1. Mi jut eszedbe? Láncjáték.

(Juss el az első szótól az utolsóig úgy, hogy a kifejezések következzenek egymásból!) Több láncot is alkothatsz!

A. barát

_____ hűtőszekrény

B. barát

_____ hűtőszekrény

C. barát

_____ hűtőszekrény

2. Rejtvényelemi

A. Egy magas fa kinyúló ágán, mely alatt egy pad volt, ült a mókus papa, a mókus mama és a kis mókus. Egyszer csak felsóhajt a kis mókus! "Ha az ág letörne, mind az öten meghalnánk."

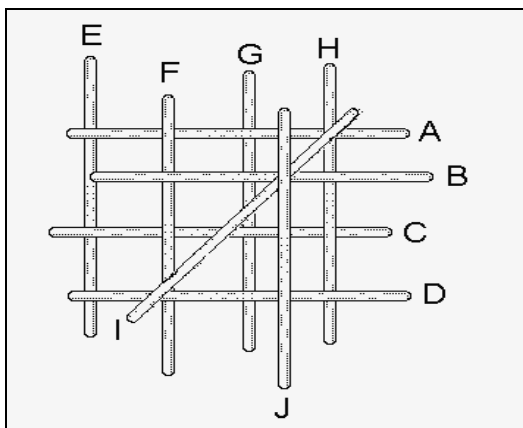
Miért mondta a kis mókus, hogy mind az "öten"?

Több megoldással is próbálkozhatsz!

B. Egyliteres edényben 6 dl tej van. Öntsünk hozzá még 6 dl-t. Mennyi tej lesz most az edényben?

3. Mindig a felsőt!

Milyen sorrendben kellene felemelni a pálcikákat?

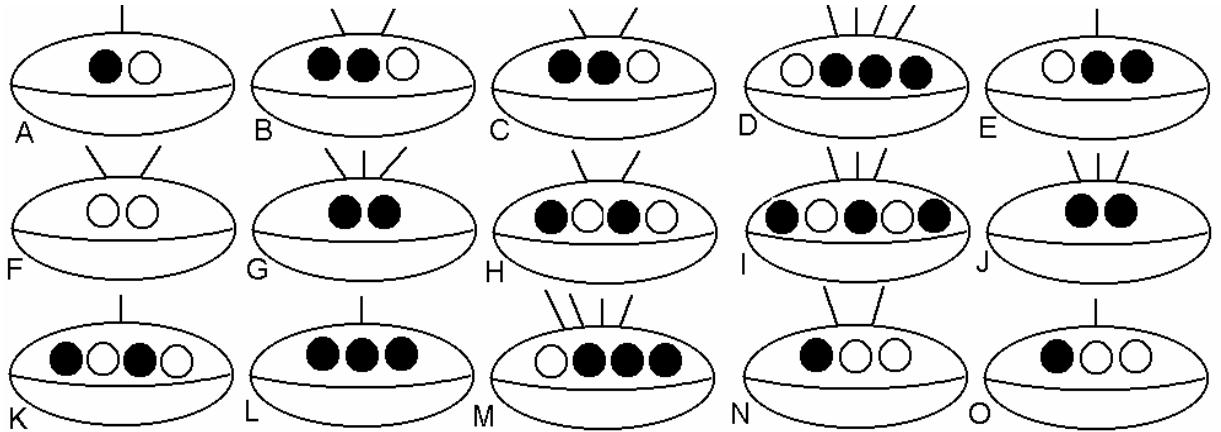


Agytorna

26. feladatlap

1. Nyomozz!

A kis űrlények haza szeretnének jutni, de a hangárban 15 űrhajó pihen, melyek nagyon hasonlítanak egymásra. Melyikbe fognak beszállni, ha tudjuk, hogy űrhajójuknak több ablaka van, mint antennája, bal oldali szomszédjának csak fekete ablaka van, jobb oldalon pedig olyan űrhajó áll, melynek fehér ablaka kevesebb van, mint antennája.



Megoldás: _____

2. Ok keresés

Mi előzhette meg a következő jelenetet? Próbálj több okot is találni!

Utazol egy buszon, mikor egy addig nyugodtan ülő fiatalember felpattan és elkezd kiabálni a sofőrnek: "Álljon meg! Álljon meg!"

Agytorna

27. feladatlap

1. Mi lehet a vége?

Röviden, akár egy szóval, fejezd be a mondatot! Több befejezést is írhatasz!

Az _____ éjszaka _____ sötétjében

2. Mi jut eszedbe? Láncjáték

Juss el az első szótól az utolsóig 6 lépésben úgy, hogy a kifejezések következzenek egymásból

A. kilincs _____

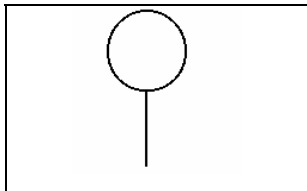
_____ kifli


B. kilincs _____

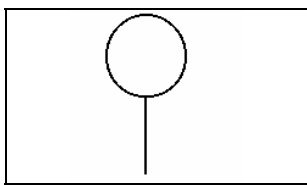
_____ kifli


3. Rajzos feladvány

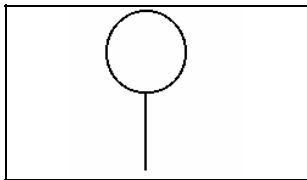
Folytasd a rajzot! Mi lehet az?














Agytorna
28. feladatlap

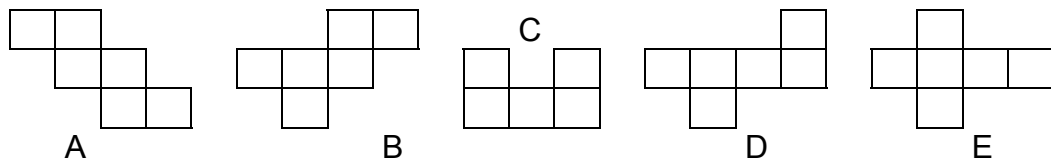
1. Próbálkozz!

- a. Római számokkal írtunk le műveleteket, de ezek így hibásak. Egyetlen gyufaszál áthelyezésével kijavíthatók!

$VI + I = IV$ javítva

$X + V = VI$ javítva

- b. Az alábbi papíralakok közül melyikből nem lehet kockát hajtogatni?



- c. Egérkének van 28 darab füstöltsajt darabja, meg 115 db ementáli. 12 darabot evett meg az egyikből és negyvenötöt a másikkól. Hány dkg az egérke?
-

2. Melyik a másik fele?



3. Gulliver játék

Sorolj fel olyan dolgokat, amelyek hasonlítanak a **bőrfocira**, de kisebbek

Agytorna
29. feladatlap

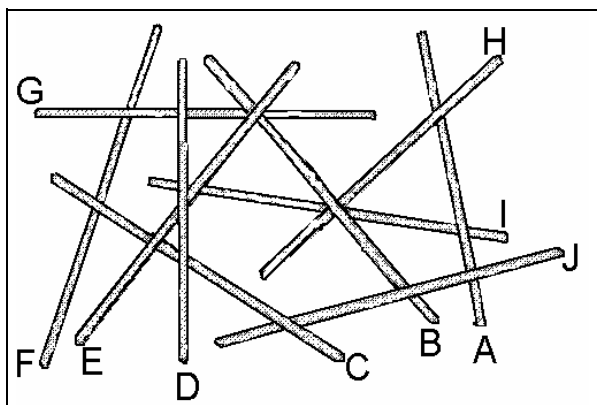
1. Furcsa kérdés

Több választ írd, de mindegyik csak egy mondat lehet! 3 percig dolgozhatsz!

Mi lenne, ha az emberek olvasnának egymás gondolataiban?

2. Mindig a felsőt!

Milyen sorrendben kellene felemelni a pálcikákat?



3. Mi jut eszedbe? Láncjáték.

Juss el az első szótól az utolsóig 10 lépésben úgy, hogy a kifejezések következzenek egymásból

A. Balaton _____

_____ bátorság

B. Balaton _____

_____ bátorság

C. Balaton _____

_____ bátorság

Agytorna

30. feladatlap

1. Szóalkotás

Hány új szót tudsz alkotni a következő szó betűiből? (2 perc)

elemlámpaüveg _____

2. Nyomozz!

Szemfüles felügyelő nyomára bukkant a régóta keresett palacsintatolvajnak. Csak az a bökkenő, hogy nem tudja, melyik házban lakik az illető. Amit tud, az a következő:

1. A háznak páratlan számú ablaka van.
2. Mindkét oldalon van szomszédja.
3. A hálószobába két emeletet kell megtenni.
4. A tolvaj szereti a virágokat az utcai ablakokban.

Ezek után ugye te is megtalálod, hogy melyik házban lakik a tolvaj?



Megoldás: _____

Agytorna
31. feladatlap

1. Hasonlók

Fejezd be a megkezdett mondatokat!



A farkas olyan, mint a vadász., mert _____

A kenyér olyan, mint a szivacs, mert _____

A szeretet olyan, mint az igazgyöngy, mert _____

2. Mi változott?

A két kép között 8 apró különbséget fedezhetsz fel. Keresd meg és jelöld!



3. Ok keresés

Mi előzhette meg a következő jelenetet? Próbálj több okot is találni!

Moziban ülsz, nézed a filmet, mikor is hirtelen eltűnik a kép, megszűnik a hang, és pár másodperc múlva kigyulladnak a lámpák.

Agytorna
32. feladatlap

1. Furcsa kérdés (2 perc)

Mi lenne, ha vásárláskor nem pénzzel, hanem jószóval kellene fizetni?

2. Mire használhatod?

Írj a megadott szóhoz a megszokottól eltérő használati lehetőséget!

fakanál

3. Hiányzó láncszem

citrom - savanyú,

cukor - _____

ég - kék,

levelek - _____

csokor - virág,

erdő - _____

osztály - tanuló,

hadsereg - _____

fa - levél,

posta - _____

nadrág - nadrágszár,

kéz - _____

Agytorna

33. feladatlap

1. Névadás

Milyen állatok nevei lehetnek a következők? Egy-egy név két állat házasságából született. Kik lehetnek a "szülők"?

HÖRILLA _____

NYÚZ _____

MEDNŐS _____

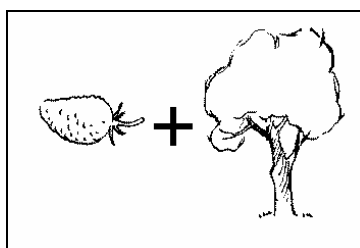

LIKOND _____

Te is tudsz illet?

2. Betű és képrejtvény

GÚZ
GÉZ

Z
—
P





Agytorna

34. feladatlap

1. Szemfüles játék

Piktogramokat (rajzokat) látsz. Melyik kettő nem szerepel a jobb oldalon?
Milyen két új rajz került helyükre?



Megoldás: _____

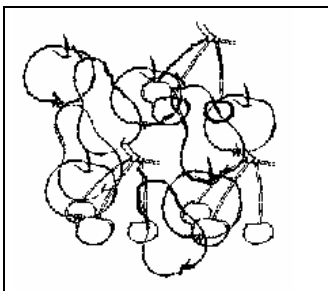
2. Ok keresés

Mi lehetett az esemény előzménye?

"Egyik reggel, miközben segítesz édesapádnak a sílécet felerősíteni a csomagtartóra, egy fürdőnadrágos úrra leszel figyelmes, aki éppen felétek szalad és izgatottan integet."

3. Számolósdi

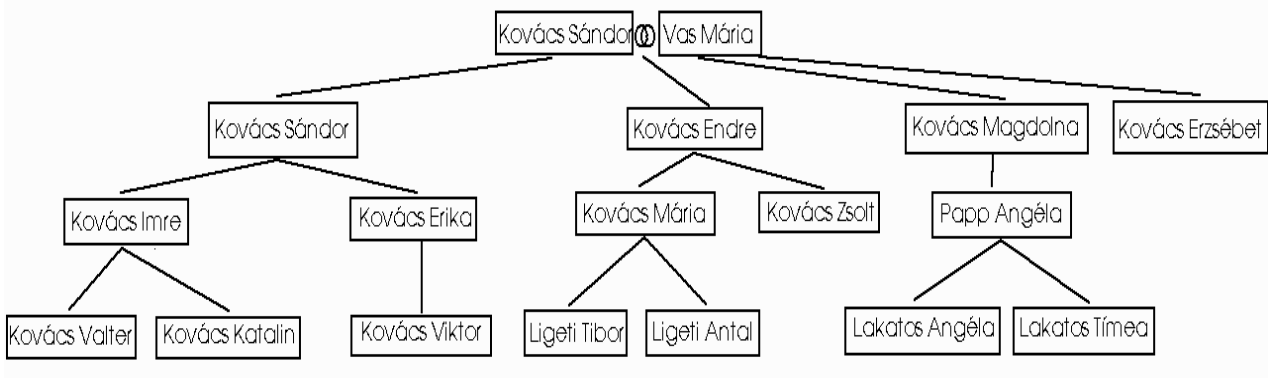
Itt a nyár és vele együtt a gyümölcsszezon. Milyen gyümölcsöket látsz a képen?
Melyikből hányat tudsz összeszámolni?



Agytorna

35. feladatlap

Most egy olyan családfát láthatsz, amelyik az egyenesági leszármazottakat mutatja be. (Feleség, férj nem szerepel.) Tanulmányozd, majd válaszolj a kérdésekre!



1. Hány gyermeke van Vas Máriának?

2. Milyen rokonságban van Ligeti Tibor Kovács Endrével?

3. Hány dédunoka szerepel a családfán?

4. Sorold fel azokat a szülőket, akiknek egy gyermekük van!

5. Körülbelül hány évesek lehetnek a dédszülők?

32 125 18 5 86 49

6. Szerinted Kovács Erzsébet ágán miért nem folytatódik a család?

7. Mi lehet a vezetékneve Papp Angéla édesapjának?

8. Sorold fel Ligeti Péter gyermekeinek nevét!
